

鷗友学園女子中学校

2014年度

一次入学試験問題

【 社 会 】

時間 50分

【 注 意 】

1. 問題用紙は、全部で24ページあります。
2. 解答用紙がはさんであります。
3. 不足しているものがある場合は、監督の先生に申し出て下さい。

受験番号	氏名

1. 次の文章を読み、問いに答えなさい。

日本列島は、北海道、本州、四国、九州の四つの島と、その周辺の (a) 伊豆諸島 や南西諸島などの約6000の島から成り立っています。その中には、世界自然遺産に登録されている 島、 諸島や (b) 人工的に作られた島 もあります。

また、日本の産業の変化によって大きな影^{えいきょう}響を受けた島もあります。例えば、
(c) 九州地方には、かつて5000人以上が暮らしていましたが、1970年代には人口が0名となった島があります。

現在、北海道、本州、四国、九州は、橋やトンネルで結ばれています。例えば、本州と四国の間には、 県尾道市と 県今治市を結ぶ尾道・今治ルートなど3つのルートがあります。

問1 文中の にあてはまる地名をそれぞれ答えなさい。

問2 文中の にあてはまる県名をそれぞれ答えなさい。

問3 下線部（a）について。

（1）伊豆諸島の中にある八丈島は、第一次産業が盛んな島です。【資料1】は、八丈島、佐渡島、利尻島のいずれかにおける、米、花、海そう類^{かい}の生産額^{るい}（2008年）を示しています。表中のA～Cの組み合わせとして正しいものを次のア～カから1つ選び、記号で答えなさい。

【資料1】八丈島、佐渡島、利尻島の米、花、海そう類の生産額（2008年）

（単位：百万円）

	米	花	海そう類
A	5601.1	34.8	21.0
B	0.1	1831.5	0.1
C	—	—	1192.0

（『2010 離島統計年報』をもとに作成）

- ア. A = 八丈島 B = 佐渡島 C = 利尻島
イ. A = 八丈島 B = 利尻島 C = 佐渡島
ウ. A = 佐渡島 B = 八丈島 C = 利尻島
エ. A = 佐渡島 B = 利尻島 C = 八丈島
オ. A = 利尻島 B = 佐渡島 C = 八丈島
カ. A = 利尻島 B = 八丈島 C = 佐渡島

(2) 友子さんは、伊豆諸島の中にある新島を訪れました。解答用紙裏の地形図は、国土地理院発行2万5千分の1地形図「新島」の一部です。次の文章を読み、友子さんがたどったルートを、解答用紙裏の地形図にわかるように記入しなさい。ただし、スタート地点は●で示されています。

友子さんは「新島空港」から車で出発しました。西へ進み、警察署を過ぎた先の交差点で進行方向左に曲がりました。その後、小中学校や高等学校を通り過ぎ、山を右手に見ながら道なりに進みました。「防衛庁試験場」を過ぎて、「青少年センター」の手前で左に曲がりました。「新島温泉」を通過すると、海が近づき、やがて左手に港や灯台が見えてきました。その後、海沿いに北上して一度左折し、「前浜」沿いの道をさらに北上しました。山の手前で右折し、神社の前を通り過ぎると、目的地である「博物館」に到着しました。

問4 下線部（b）について。**【資料2】**は大阪湾周辺の衛星写真です。

【資料2】大阪湾周辺の衛星写真

ここに大阪湾周辺の衛星写真の画像が入っています。

（画像提供：東海大学情報技術センター）

- （1）**【資料2】**の中の人工島**X**にある空港の名前を答えなさい。また、人工島に空港をつくる利点を2つあげなさい。

(2) 【資料2】の中の人工島 Y は「ポートアイランド」と呼ばれ、神戸港の一部です。次の A～C の表はそれぞれ、神戸港、東京港、名古屋港のいずれかの主な貿易品目とその品目の輸出入金額に占める割合を表しています。A～C の組み合わせとして正しいものを次のア～カから 1 つ選び、記号で答えなさい。

A

輸出金額合計 5兆97億9400万円

輸出品目	輸出金額に占める割合 (%)
プラスチック	5.5
建設・鉱山用機械	4.8

輸入金額合計 2兆6236億3800万円

輸入品目	輸入金額に占める割合 (%)
衣類	7.6
たばこ	6.8

B

輸出金額合計 4兆6877億2500万円

輸出品目	輸出金額に占める割合 (%)
コンピュータ部品	7.7
自動車部品	7.1

輸入金額合計 8兆4585億2300万円

輸入品目	輸入金額に占める割合 (%)
衣類	7.7
コンピュータ	5.8

C

輸出金額合計 9兆6764億2800万円

輸出品目	輸出金額に占める割合 (%)
自動車	28.0
自動車部品	14.6

輸入金額合計 4兆6386億7300万円

輸入品目	輸入金額に占める割合 (%)
液化ガス	17.2
石油	13.0

(『日本国勢図会2013/14』をもとに作成)

- ア. **A** = 神戸港 **B** = 東京港 **C** = 名古屋港
- イ. **A** = 神戸港 **B** = 名古屋港 **C** = 東京港
- ウ. **A** = 東京港 **B** = 神戸港 **C** = 名古屋港
- エ. **A** = 東京港 **B** = 名古屋港 **C** = 神戸港
- オ. **A** = 名古屋港 **B** = 東京港 **C** = 神戸港
- カ. **A** = 名古屋港 **B** = 神戸港 **C** = 東京港

問5 下線部(c)について。この島の人口が減少した理由の一つとして、1960年代にエネルギー革命が起こったことがあげられます。この時期に起きたエネルギー革命について説明しなさい。

2. 次の文章を読み、問いに答えなさい。

日本人の「旅」の起源について考えてみましょう。

わたしたちにとって旅は楽しむものであり、観光という意味が大きいものですが、昔はそうではありませんでした。そもそも日本人は、自分の生まれた村の外には一生、一步も足をふみだしたことのない人が一般的であったといわれています。旅に出ることは、生死にかかわる重大問題であり、そのことは [①] 時代の日本の様子をあらわした『魏志倭人伝』からもわかります。『魏志倭人伝』には「倭人は家族の中で一人でも旅に出ている時には、その人が帰ってくるまで留守宅の者はその人が死んだかのように過ごしている」という記述が見られます。

では、日本人が旅に出るのはどのような場合だったのでしょうか。奈良時代につくられた歌集『 [②] 』の中の防人の歌にあるように、国家によって強制的に遠い地で警備にあたった兵士による旅があげられます。また、江戸時代、遠い地の有名な寺社にお参りにいくための旅もその起源としてあげられます。

日本では学校教育の中でも移動教室、林間学校、臨海学校、修学旅行などの旅が行われます。現在、全国の学校で行われている「修学旅行（移動教室・林間学校・臨海学校）」について見てみましょう。

右の【資料3】は現在の小学校の主な修学旅行先です。伊勢神宮で有名な三重県をはじめ、古都とよばれる京都府や奈良県、日光で有名な栃木県などが上位に入っています。また、上位5位以外では東京都、大阪府、広島県、(a) 長崎県、沖縄県などが小学校だけでなく、中学校や高校でも

【資料3】

小学校の修学旅行先上位5位

(都道府県別 2006年)

- 1位 三重県
- 2位 京都府
- 3位 奈良県
- 4位 栃木県
- 5位 北海道

主な修学旅行先になっています。訪問場所では、鳥羽や (b) 秋吉台・秋芳洞など自然豊かな場所、金閣、(c) 銀閣、宮島、(d) 首里城、(e) 二条城など歴史的な場

所を訪れる学校が多いようです。

修学旅行は日本独特のものであり、明治時代に旅に教育的意味を持たせたものとして始まりました。下の【資料4】は日本で初めて行われた修学旅行の記録です。約1か月という長期間の旅行で、かつて（f）宿場町だった場所や城下町だった場所にも訪れています。

【資料4】 日本最初の修学旅行の記録（1887年）

月日	訪問地・宿泊地
8月6日	坂本
7日	沓掛
8日	追分
11日	和田
12日	下諏訪村
13日	上諏訪村
17日	甲府
19日	黒駒村
20日	川口
22日	<u>富士山</u> 八合目
23日	須走り駅
24日	箱根
9月3日	小田原
4日	帰校

修学旅行は時代の影響を受けながらその目的が変化していきました。当初、精神や身体を鍛えるために、徒歩で移動する「行軍旅行」(注)が行われていました。その後、（g）見学や見物をする旅行が増え、移動も徒歩ではなく、鉄道を利用して遠距離の旅行を実施する学校も多くなりました。

しかし、（h）政府は鉄道利用に関する方針を変えていきます。政府が一般の人々の鉄道利用を制限し、1940年には、修学旅行における鉄道利用は一切禁止されました。その後、修学旅行の実施は難しくなりました。

戦後、修学旅行は再開され、児童や生徒たちはさまざまな場所を訪れて直接見学することで多くのことを学べるようになりました。また、1972年には高校で初めての海外修学旅行が実施され、現在では、アジアをはじめ、^{おうべい}欧米などへの修学旅行も増えてきました。時代が変わっても、修学旅行の目的は「修学」、つまり「学んで知識を得る」ことに変わりはありません。

(注) 行軍旅行…軍隊の訓練のように、列を組んで長距離を行進・移動する旅行のこと。

【資料3】財団法人日本修学旅行協会『修学旅行総覧』をもとに作成)

【資料4】新谷恭明 「日本最初の修学旅行の記録について—平澤金之助「六州游記」の紹介—」九州大学大学院教育学研究紀要 (2001年 第4号) をもとに作成)

問1 文中の にあてはまることばを答えなさい。

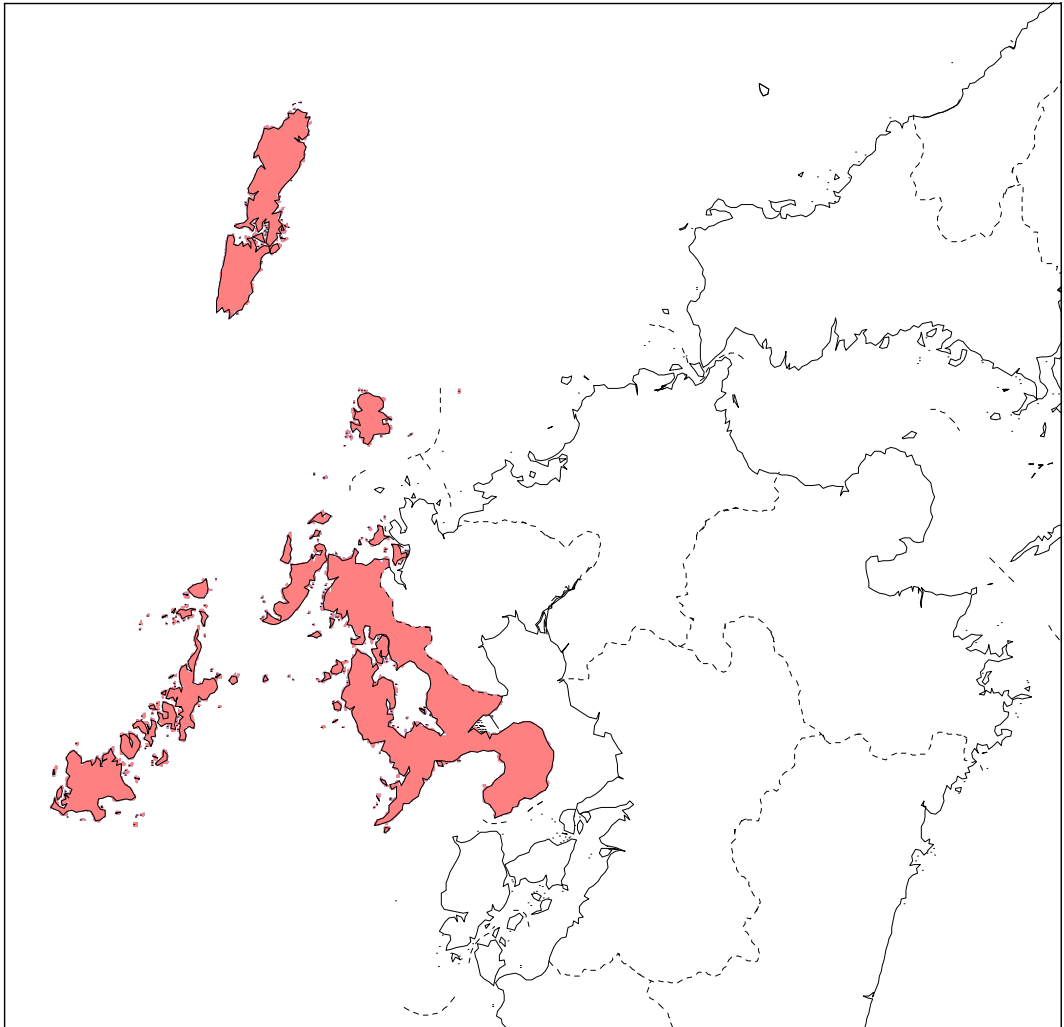
問2 下線部（a）について。あなたが長崎県に修学旅行に行くとしたら、どのような見学場所を考えますか。長崎県を赤色で示した【資料5】の地図を参考にして、以下の〔条件〕と〔例〕にしたがって答えなさい。

〔条件〕 ・訪問地を1つあげること。

・どの時代のものを、どのような目的で見学するかを述べること。

〔例〕 栃木県 「日光東照宮を訪問し、江戸時代の建物の様式を学ぶ。」

【資料5】



問3 下線部（b）について。秋吉台・秋芳洞がある県の一部は、江戸時代、長州とよばれていました。この県名を答えなさい。

問4 下線部（c）について。銀閣に関する説明として誤っているものを次のア～エから1つ選び、記号で答えなさい。

ア. 足利義政が京都に建てた。

イ. 応仁おうにんの乱が起きる前に完成した。

ウ. 禅宗ぜんしゅうの影響を受けた建築様式となっている。

エ. のちに慈照寺じしょうじ銀閣と呼ばれるようになった。

問5 下線部（d）について。首里城は琉球王国りゅうきゅうの政治・経済・文化の中心でした。琉球王国の成立から滅亡めつぼうまでの期間として正しいものを次のア～エから1つ選び、記号で答えなさい。

ア. 13世紀前半から17世紀後半

イ. 14世紀前半から18世紀後半

ウ. 15世紀前半から19世紀後半

エ. 16世紀前半から20世紀後半

問6 下線部（e）について。下の絵は二条城内で、大名たちに大政奉還ほうかんを行うことを絵の中の○で囲んだ人物が伝えた場面です。この人物が誰かだれかを答え、大政奉還とはどのようなことか説明しなさい。

ここに大政奉還に関する絵が入っています。

（聖徳記念絵画館蔵）

問7 下線部（f）について。宿場町にはさまざまな役割をする施設しせつがありました。

宿場町にある施設として誤っているものを次のア～エから1つ選び、記号で答えなさい。

ア. 大名が参勤交代の途中とちゆうで泊まる宿

イ. 飛脚ひきやくの荷物や文書を取り次ぐ施設

ウ. 旅人が利用する宿

エ. 人や物の出入りを取り締まる関所

問8 次の①～③は、現在の小学生がある場所を訪問した時の記録です。この小学生が訪問した場所を8ページの【資料4】から1つ選び、答えなさい。

①武田信玄ゆかりの名所を見学した。

②名産であるブドウの畑でブドウ狩りをした。

③盆地や扇状地など特徴的な地形を調べた。

問9 【資料4】の中の波線部について。富士山には歴史上の人物も登っていることが記録として残っています。その中には有名な僧そうもいます。

3人の僧がそれぞれ登山を行った時期は、次の年表中A～Dのどこにあてはまりますか。その組み合わせとして正しいものを次のア～カから1つ選び、記号で答えなさい。

	A
794年	平安京に都がうつされる
	B
1086年	白河上皇が院政を始める
	C
1232年	御成敗式目 <small>ごせいばいしきもく</small> が制定される
	D

- ア. A = 空海 B = 親鸞しんらん C = 日蓮にちれん
- イ. A = 親鸞 B = 空海 C = 日蓮
- ウ. A = 日蓮 B = 空海 C = 親鸞
- エ. B = 親鸞 C = 空海 D = 日蓮
- オ. B = 空海 C = 親鸞 D = 日蓮
- カ. B = 日蓮 C = 親鸞 D = 空海

問10 下線部 (g) について。修学旅行の行き先に、観光地の見学だけではなく、「戦跡^{せんせき}地見学」として遼東半島の旅順^{リアオトン}・大連^{りょじゅん だいれん}を見学する学校が増えてきました。遼東半島への見学が行われるようになったのは、いつの時期以降からと考えられますか。ふさわしいものを次のア～エから1つ選び、記号で答えなさい。

ア. 戊辰戦争以降^{ぼしん}

イ. 日露戦争以降^{にちろ}

ウ. 第一次世界大戦以降

エ. 満州事変以降

【このページに問題はありません】

問11 下線部（h）について。**【資料6】**と**【資料7】**は政府（鉄道省）が出した広告です。

【資料6】の広告には、天皇に関する史跡、古くからの神社や山などへの鉄道旅行を国民にすすめる目的がありました。

その後、政府の方針が変わり、1943年に**【資料7】**のような広告が出されました。これは、国民が鉄道を利用して旅行することを制限するために出した広告です。

国民の鉄道旅行に関して、政府の方針が**【資料6】**から**【資料7】**のように変わったのはなぜでしょうか。日本の状況の変化に触れて、考えて答えなさい。

【資料6】 1938年の政府の広告

ここに、1938年に政府が出した広告の写真が入っています。

(1938年8月3日付『写真週報』25号より)

【資料 7】 1943年の政府の広告

ここに、1943年に政府が出した広告の写真が入っています。

(1943年9月29日付『写真週報』291号より)



【資料 7】 の赤い枠内をわかりやすくしたもの

鉄道は勝つための武器

不要な旅行で戦力減らすな

日本国内の家庭の
数をかりに
千五百万とし

各家庭で一年間に
一人が一度旅行を
取りやめたとすると

3. 次の文章を読み、問いに答えなさい。

2013年7月4日は、(a) 参議院議員通常選挙の公示日であり、投開票は21日に行われました。日本国憲法が施行された 年に第1回参議院議員通常選挙が行われて以来、今回で23回目になります。この選挙では、ねじれ国会が解消するかどうか、また (b) 憲法改正を目指している政党がどれくらい議席数を確保するかなどが注目されました。しかし、(c) 投票率は前回の参議院議員通常選挙より大幅に落ち込みました。選挙の結果、自由民主党が圧勝し、連立を組む公明党と合わせて過半数を超える議席を獲得し、3年ぶりにねじれ国会は解消しました。ねじれ国会の状態のときには、「決められない政治」ということがしばしば言われてきました。このように政治の停滞と混乱が引き起こされるのは (d) 参議院が「強すぎる」ことが理由の一つです。たとえば、福田康夫首相（当時）の時、初めて首相に対する問責決議案が可決されました。その後もねじれ国会の下、繰り返し、首相や大臣に対する問責決議案が可決されてきました。

安倍晋三首相は開票翌日の記者会見で「国民が求めているのは全国津々浦々まで実感できる強い経済を取り戻すこと。成長戦略などの実行なくして成長なしだ。」と述べました。安倍首相の経済政策は (e) 「アベノミクス」と呼ばれ、金融緩和、財政政策、成長戦略を柱として、経済成長を図ろうとするものです。

衆議院が解散されなければ2016年まで国政選挙は行われないことになります。この間に、政府が山積みとなっている内政・外交の問題にじっくりと取り組むことが望まれます。

問1 文中の にあてはまる数字を答えなさい。

問2 下線部 (a) について。公示日から投票日前日までが選挙運動を行うことができる期間です。この期間は、参議院の方が衆議院よりも長くなっています。それはなぜでしょうか。参議院における選挙区と衆議院における選挙区の違いに触れながら、答えなさい。

問3 下線部 (b) について。次の【資料8】を見て、以下の問いに答えなさい。

【資料8】日本国憲法第96条（一部）

この憲法の改正は、各議院の総議員の の賛成で、国会が、これを発議し、国民に提案してその承認を経なければならない。…

(1) 憲法改正の手続きは憲法第96条で定められています。【資料8】の

にあてはまることばを答えなさい。

(2) 憲法改正の手続きを【資料8】のように規定しているのはなぜだと考えられますか。憲法が果たす役割とは何かに触れながら、答えなさい。

問4 下線部(c)について。【資料9】は2013年5月に東京都小平市で行われた住民投票についての新聞記事です。この住民投票は、50%以上の投票率がないと開票しないという条件で行われました。結果として投票率は35%で、投票された5万票は開票されませんでした。

【資料9】



(『読売新聞』2013年5月27日)

住民投票では、投票率を開票の条件にすることがあります。投票率を開票の条件にすることには問題点もあります。それはどのような問題点でしょうか。投票率の条件がない場合とある場合を比較して、説明しなさい。

問5 下線部(d)について。18世紀のフランスのある政治家は、「第二院が第一院と一致するなら無用であり、反対するならば有害である」と述べています。第一院は衆議院を、第二院は参議院を指すとして日本にあてはめて考えた場合、どのような意味になるのでしょうか。最もふさわしいものを次のア～エから1つ選び、記号で答えなさい。

ア. 衆議院と参議院で審議を二度繰り返し、慎重に物事を決められるので、二院制に賛成している、という意味。

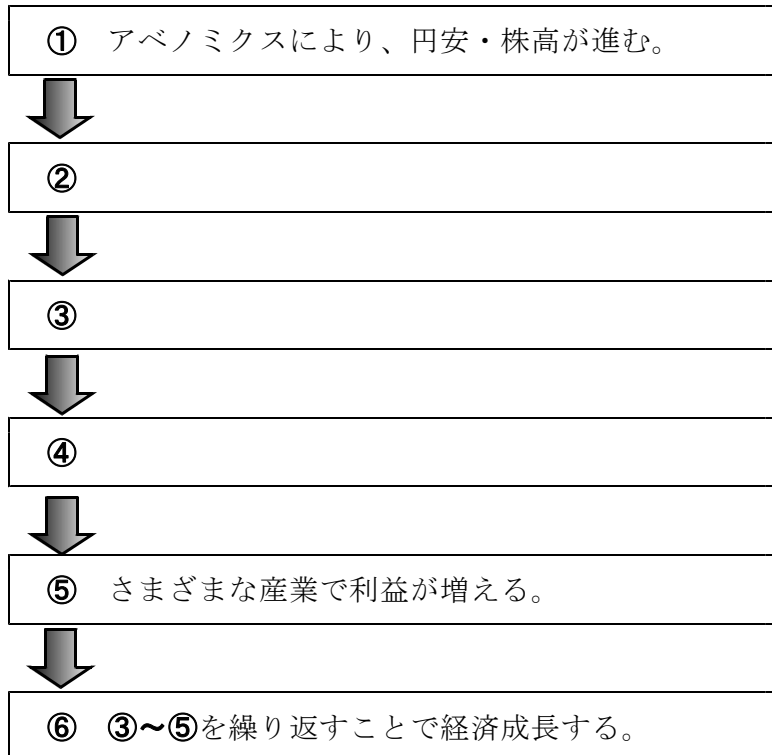
イ. 参議院の任期は6年で、解散のある衆議院と違い、じっくりと政策に取り組むことができるので、参議院の存在を肯定している、という意味。

ウ. 参議院が衆議院の議決に賛成する場合は、同じことの繰り返しに過ぎず、賛成しない場合は、物事が決められず、時間がかかるだけなので、二院制に反対している、という意味。

エ. 参議院は地域代表としての側面しか持っておらず、全国民を代表する議員で組織されるという憲法の規定に違反しているため、参議院の存在を否定している、という意味。

問6 下線部(e)について。

(1) 下の図は、「アベノミクス」により、どのような段階を経て経済成長を目指すのかを示したものです。 ~ にあてはまる文の組み合わせとして最もふさわしいものを次のア～ウから1つ選び、記号で答えなさい。



- A. 輸出産業の利益が増加する。
- B. 国内でいろいろなものが売れる。
- C. 雇用こようが増えたり、給料が上がったりする。

- ア. ② = A ③ = C ④ = B
- イ. ② = B ③ = A ④ = C
- ウ. ② = C ③ = B ④ = A

(2) 【資料10】は、1995年から2012年までの日経平均株価（株価）と完全失業率（失業率）の推移を示したものです。【資料10】から読み取れることとして正しいものを次のア～エから1つ選び、記号で答えなさい。

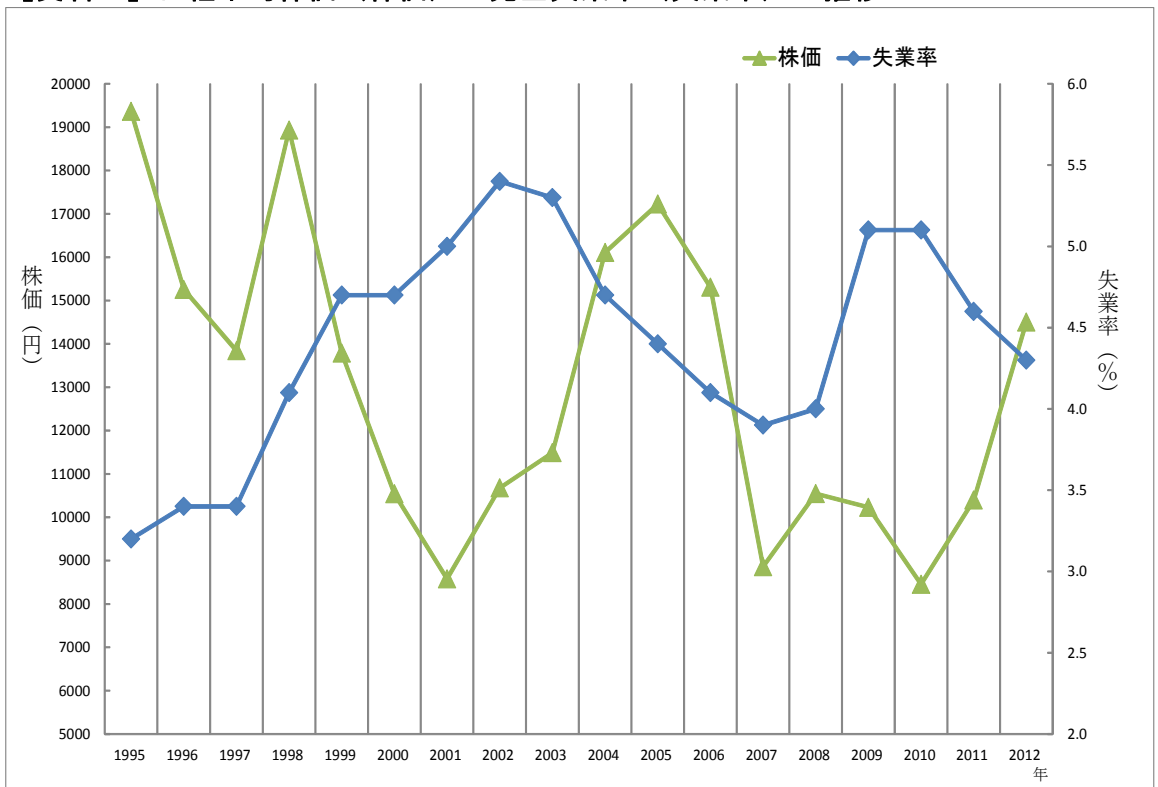
ア. 失業率が株価を上回る年の方が、株価が失業率を上回る年よりも多い。

イ. 失業率は2002年にピークを迎えていたが、それ以降5%を超えることはない。

ウ. 株価が下落した年は失業率が上昇し、株価が上昇した年は失業率は下落している。

エ. 株価が前年より下落している年の方が、株価が前年より上昇している年よりも多い。

【資料10】日経平均株価（株価）と完全失業率（失業率）の推移



(「総務省統計局労働力調査」・「日経平均プロフィール」をもとに作成)

1.

問1 ① 島 ② 諸島

問2 ③ 県 ④ 県

問3 (1) (2) 裏面の地形図に記入

問4 (1) 名前

利点

(2) 問5

2.

問1 ① ②

問2

問3 県 問4 問5

問6

問7 問8 問9 問10

問11

3.

問1

問2

問3 (1)

(2)

問4

問5 問6 (1) (2)

1. 問3 (2)

国土地理院発行2万5千分の1地形図「新島」の一部



(問題作成の都合上一部改変)