



鷗友学園女子中学校

2026年度

第二回入学試験問題

【 社 会 】

時間 45分

【 注 意 】

1. 試験開始の合図があるまで中を見てはいけません。
2. 問題用紙は、全部で18ページあります。試験中によごれや不足しているページに気づいた場合は、手を上げて監督^{かんとく}の先生をよんでください。
3. 解答用紙は問題用紙にはさまれています。

受験番号	氏 名

1. 次の文章を読み、問いに答えなさい。

米は日本の主食であり、大切な食品です。そのため、(a) 稲作が全国各地で行われてきました。古くから (b) 稲作に向かない地域でも栽培できるようなさまざまな工夫をして水田を広げてきました。しかし、1960年代以降、米の消費量が減り続けてきたことを受けて、政府は減反政策を進めてきました。

2018年に減反政策は廃止されましたが、主食用の米から麦や大豆、(c) 飼料用作物に転作をすることで、農家には補助金が支払われてきました。そのため、事実上の減反政策は続いているといえます。そのような中で (d) 多くの米農家が工夫をし、品質や収穫量の向上に努めてきました。

2024年以降、自然災害や米価の高騰などの問題が続いており、日本政府は農業政策への対応を迫られています。

問1 下線部 (a) について。最近の気候変動をうけて、各地で、1年間に米を2回収穫することができるような工夫が進められています。

(1) このように同じ作物を1年間に2回収穫することを何というか、答えなさい。

(2) 稲の栽培にはどのような気候条件が必要か、2つ挙げて答えなさい。

問2 下線部 (b) について。秋田県大潟村は、大規模な機械化農業の実現を目指して、
八郎潟を干拓してできました。

(1) 大潟村は北緯40度に位置します。ほぼ同じ緯度にある都市として適当なものを地図中のア～エから1つ選び、記号で答えなさい。



(2) 【資料1】は、大潟村とその隣にある男鹿市^{おが}の地形図の一部です。地形図中に南北に流れる川は、排水路です。地形図中の $\text{---}\bullet\text{---}\bullet\text{---}$ は、市区町村の境を表しています。

大潟村は、地形図中 **A・B** のどちらにあたるか、解答欄の「**A・B**」のいずれか1つを選んで○を記入し、地形図から読み取ったことを1つ挙げながら、選んだ理由を説明しなさい。

【資料1】



(国土地理院ウェブサイト <https://maps.gsi.go.jp/> をもとに作成)

(3) 【資料2】のA～Cは、米の生産量（2024年）上位3道県である秋田県、新潟県、北海道の水田率（2022年）、石油・石炭製品製造品出荷額（2022年）、素材（木材）（2023年）のいずれかを表しています。

A～Cの道県にあてはまる組み合わせとして正しいものを次のア～カから1つ選び、記号で答えなさい。

【資料2】

	水田率 (%)	石油・石炭製品 製造品出荷額 (億円)	素材 (木材) (千m ³)
A	88.8	216	118
B	87.7	57	969
C	19.4	8699	3008

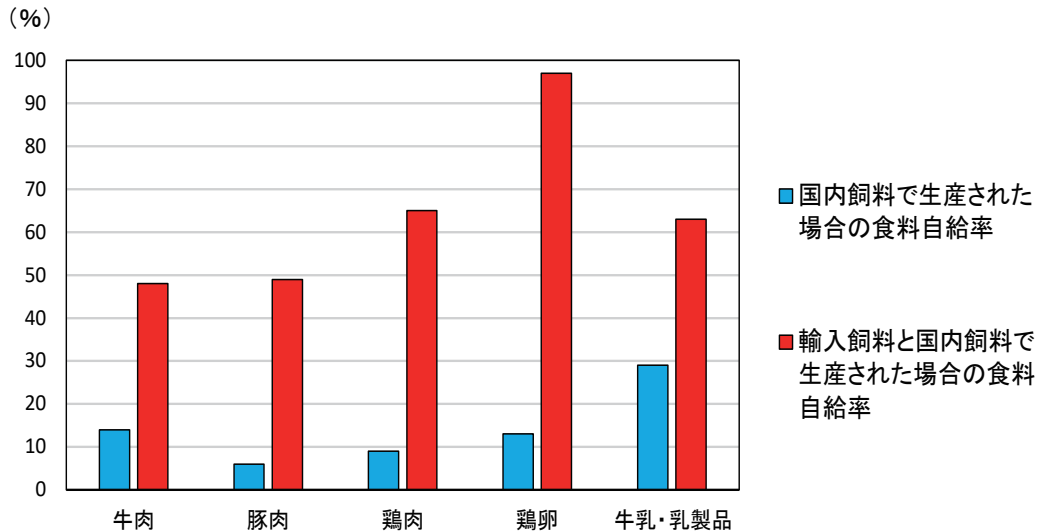
(矢野恒太記念会『日本国勢図会2025／26』、『第98次農林水産省統計表』をもとに作成)

- | | | |
|-------------------|----------------|----------------|
| ア. A = 秋田県 | B = 新潟県 | C = 北海道 |
| イ. A = 秋田県 | B = 北海道 | C = 新潟県 |
| ウ. A = 北海道 | B = 秋田県 | C = 新潟県 |
| エ. A = 北海道 | B = 新潟県 | C = 秋田県 |
| オ. A = 新潟県 | B = 秋田県 | C = 北海道 |
| カ. A = 新潟県 | B = 北海道 | C = 秋田県 |

問3 下線部(c)について。【資料3】は、畜産物の食料自給率(2022年)を示しています。

【資料3】から読み取れることについて述べたXとYの文の内容が正しいか、誤っているかを判断し、その組み合わせとして適切なものを次のア～エから1つ選び、記号で答えなさい。

【資料3】畜産物の食料自給率(カロリーベース)



(農林水産省「令和5年度食料自給率について」をもとに作成)

X. 鶏肉、鶏卵、牛乳・乳製品の食料自給率は、輸入飼料を含めた場合と国内飼料のみの場合、どちらも牛肉や豚肉に比べて食料自給率が高いことから、畜産農家の収入も安定していることがわかる。

Y. 【資料3】中のすべての畜産物について、国内飼料で生産された場合の食料自給率は30パーセント以下になっており、肉類の生産に関わる家畜の飼料は、多くを輸入に頼っていることがわかる。

- ア. X = 正しい Y = 正しい
- イ. X = 正しい Y = 誤っている
- ウ. X = 誤っている Y = 正しい
- エ. X = 誤っている Y = 誤っている

問4 下線部（d）について。現在、安全性を重視した有機栽培が注目されています。

有機栽培について説明した文として適切ではないものを次のア～エから1つ選び、記号で答えなさい。

ア. 有機栽培では、生産量が多すぎて出荷ができなかったり、形が悪くて商品にならなかったりした野菜をつぶして、肥料とすることがある。

イ. 有機栽培では、加工した際に出た油をしぼった後の菜種のかすや、油をとった後の魚かすなどを肥料にすることで、ゴミを減らすことができる。

ウ. 有機栽培では、害虫の天敵となる虫を利用することで、害虫が広がることを防ぎ、農薬などの使用量を減らすことができる。

エ. 有機栽培では、肥料に微生物びせいぶつを利用するため、農産物は病気や害虫に強くなり、農薬を用いる栽培方法よりも生産量が増える。

問5 各地で日本の米づくりを支えるための改革が行われています。そのうちの1つに、大規模経営化が挙げられます。大規模経営とは、一農家あたりの農地を増やしたり、集団で広い農地を耕作したりすることをいいます。例えば、耕作されなくなった土地を、耕作できる農家が手に入れていくことが考えられます。しかし、日本の地形を考えると、大規模経営化は全国にそれほど広がらないという指摘もあります。

大規模経営化の利点を1つ挙げなさい。また、日本で大規模経営化が広がらないと考えられる理由を、日本の地形の特徴ふに触れながら、考えて答えなさい。

2. 次の文章を読み、問いに答えなさい。

長い歴史の中には、さまざまな記録が存在します。個人が書いた日記や、政治、経済、社会に関する公式な記録文書、また、文献史料として、古代の神話や伝説を記した『古事記』や、歴史書である『日本書紀』などが挙げられます。

これらの記録は、単に過去のできごとを伝えるだけでなく、歴史を解釈し、現代社会に活かすための重要な手がかりとなります。過去の記録から日本の歴史を見ていきましょう。

問1 佐賀県鳥栖市のホームページには以下のような記載があります。

鳥栖という地名は、その字のとおり「鳥の栖」という意味です。

奈良時代に書かれた、肥前国（注）の『』によると、ここに住む人々が鳥小屋を作り、雑鳥をつかまえてかいならし、朝廷に献上したことから「鳥屋の郷」、「鳥櫓（巢）郷」と呼ばれ、のちに鳥栖という地名になったと伝えられています。

（注）現在の佐賀県全域・長崎県の一部

（鳥栖市ホームページをもとに作成）

（1）文中の『』に入る書物の名を答えなさい。

（2）鳥栖市の西側には吉野ヶ里町があります。この町には、国内最大級の環濠集落の遺跡があります。この遺跡について説明した文として正しいものを次のア～エから1つ選び、記号で答えなさい。

ア. この遺跡は縄文時代のものと考えられている。

イ. この遺跡からナウマン象の化石が出土した。

ウ. この遺跡から竪穴住居や宮殿とされる大きな建造物が発見された。

エ. この遺跡は、巨大な前方後円墳の一部であると考えられている。

問2 古代において細長く平たく削った木に文字を書き記した木簡もっかんとよばれるものが、日本各地から数多く出土しています。出土した木簡には以下のようなことが書かれていました。

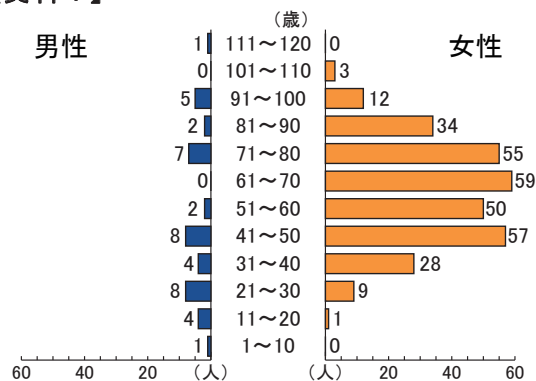
- ・地方から都へ税として納められた物の種類や数量、送り主、送り先
- ・人名ねんれい、年齢、性別、出身地、家族構成
- ・朝廷と地方の間で交かわされた命令や報告
- ・役人の勤務時間、勤務内容
- ・中国の古典や『古今和歌集』の歌
- ・習字の練習

(1) 上記から分かることとして適切ではないものを次のア～エから1つ選び、記号で答えなさい。

- ア. 木簡は公式の文書としてのみ使用されていたことが分かる。
- イ. 木簡は戸籍こせきの役割も果たしていたことが分かる。
- ウ. 木簡は平安時代にも使用されていたことが分かる。
- エ. 木簡は納税する上で欠かせない荷札の役割を果たしていたことが分かる。

(2) 【資料1】は、律令制度における阿波国あわ（現在の徳島県）にある村の戸籍の記録をグラフで表したものです。

【資料1】



(浜島書店『つながる歴史』をもとに作成)

【資料1】はある時期の戸籍もとに基づいて作られています。その時期を解答欄にある「ア：8世紀初め イ：10世紀初め」のいずれか1つ選んで○を記入し、このグラフから読み取れる特徴とくちょうとそのようになった理由を説明しなさい。

問3 次の文章は、古代から中世に書かれた日記・記録の一部を分かりやすく表したものです。これらを読み、以下の問いに答えなさい。

① 今日^{きさき}は^{ふじわらの い し}後の藤原威子が^{こうごう}後一条天皇の皇后になる日である。威子は道長の三女で、一家から3人の皇后が立つ例はこれまでにないことである。

② 明が中国を統一したことと、^{わ こう かいぞくこう い}倭寇が海賊行為をはたらいていることを知らせる。日本の王は、明に仕えるならあいさつに来なさい。もし倭寇の活動が止まなければ、^や軍に討伐^{とうばつ}させた上、日本へも攻^せめて、国王をとらえるであろう。

③ 皆、心を一つにして聞きなさい。源頼朝公が朝廷の敵を倒し、鎌倉に幕府を開いて以来、あなた方御家人の官位や給与は、すべてそのご恩によるものです。しかしながら、今、筋^{すじ}の通らない命令が朝廷から発せられました。名誉^{めいよ}を大切に思う者は、朝廷側^うについた者たちを討^とち取り、源氏三代の将軍が築いたものを守り通しなさい。

(1) 上記の日記・記録を年代順に並び替えたものとして正しいものを次のア～カから1つ選び、記号で答えなさい。

- ア. ①→②→③ イ. ①→③→② ウ. ②→①→③
エ. ②→③→① オ. ③→①→② カ. ③→②→①

(2) 次のア～エのできごとの中に上記の①～③のいずれかと関係の深いものが1つあります。そのできごとを次のア～エから1つ選び、記号で答えなさい。また、そのできごとと関係の深い日記・記録を①～③から1つ選び、番号で答えなさい。

- ア. 鎌倉幕府が創設される。
イ. ^{にっそう}日宋貿易が開始される。
ウ. ^{じょうきゅう}承久の乱が起きる。
エ. 南北朝の動乱が始まる。

問4 次の文章は、江戸時代に書かれた日記の一部です。

- ・ 医師でありながら、人体の本当の姿（内臓・骨格など）を知らずにいたのは、恥ずべきことである。しかし、この本に出会って、実際の形を知れたのは幸いだった。
- ・ 辞書も何もなかったので、ただ図を頼りに名前を書き写し、少しだけ記されている単語の意味から内容を推測して、それを日本語に訳して文章にしたのだった。

この日記に書かれた取り組みは、過去に幕府が行った政策と深く関係しています。もっとも関係の深いできごととして正しいものを次のア～エから1つ選び、記号で答えなさい。

- ア. ペリーが浦賀うらがに来航し、幕府に開国を求めた。
- イ. 薩摩藩さつまはんと長州藩ちやうしゆはんが、幕府たおを倒そうとする中で徳川慶喜とくがわよしのぶが大政奉還たいせいほうかんを行った。
- ウ. 老中の田沼意次たぬまおきつぐが、長崎における外国との貿易を拡大した。
- エ. 徳川吉宗よしむねがキリスト教に関係のない洋書の輸入を許し、実学をすすめた。

問5 木戸孝允たかよしが記した日記には、明治維新いしんに関する記述が多くあります。1871年の日記には、木戸は西郷隆盛たかもりや大久保利通としみちらと面会し、中央集権的な政府を作るために話し合っていたことが記されています。

1871年に実現した、中央集権的な政府を作るための政策の名前を答えなさい。

問6 次の資料は、「ある事件」を起こした中心人物の1人が書いた手記です。この資料を読み、以下の問いに答えなさい。

2月18日 私はやると主張した。1日も早く日本の悪を斬り除かねば気がすまなかつたまでだ。

2月22日 大尉（注）が決意書を示してくれた。同志の心は決まったので、襲撃目標や日時などを決定した。

（注）大尉：この日記を書いた人の上官。

「ある事件」とは何かを答えなさい。また、この事件に関する説明として正しいものを次のア～エから1つ選び、記号で答えなさい。

- ア. この事件によって、初の本格的政党内閣の首相が暗殺された。
- イ. この事件によって、8年間続いた政党内閣が終わることになった。
- ウ. この事件の目的は、南満洲鉄道の線路を爆破し、満洲一帯の占領を目指したものであった。
- エ. この事件の目的は、政府の重要人物を暗殺した上で、国会やその周辺を占拠し、軍事政権を目指したものであった。

問7 次の①～③の日記や記録を読み、これらの記録を年代順に並び替えたものとして正しいものを次のア～カから1つ選び、記号で答えなさい。

①

(香川県高松市の小学4年生だった少年が書いた日記)

②

(歴史家萩原延寿『一億人の昭和史』、一部改編)

③

(写真家石川光陽の記録)

ア. ①→②→③

イ. ①→③→②

ウ. ②→①→③

エ. ②→③→①

オ. ③→①→②

カ. ③→②→①

問 8 2025年は、普通選挙法が成立して100年目の年でした。日本の国政選挙に関する以下の問いに答えなさい。

(1) 【資料 2】は、1946年 4 月 10日に行われた選挙に立候補した女性の回想です。

【資料 2】

(加藤シヅエの回想『新編 私の昭和史Ⅳ』)

この女性は下線部の「台所と政治の直結」によって何を解決したかったのか、当時の国民はどのような問題に苦しんでいたのかにふれながら説明しなさい。

(2) この100年間、国や自治体の選挙管理委員会は選挙に関するさまざまなポスターを作成してきました。その中には、右ページの X・Y のように昔のものであっても、現代の選挙において学ぶことができる内容を含んでいるものがあります。

ポスター X・Y のどちらかを選んで、解答欄に○を記入し、現代にも通用するメッセージは何かを読み取って答えなさい。その際、2025年の参議院議員通常選挙における特徴や課題となったことを具体的に1つ挙げること。

X

(横書きの文字は右から左へ読みます。)

ここには、戦前の選挙推進ポスターが入ります。

(国立国会図書館「史料に見る日本の近代」を一部改変)

※「昭和維新^{よろん}輿論政治ガ実現スル」と書いてあります。意味は「昭和の世の中を改革し、多くの人の意見を取り入れた政治が実現する」です。

Y

ここには、戦後の選挙推進ポスターが入ります。

(ニチマイ米国事務所ホームページ、一部改変)

3. 次の文章を読み、問いに答えなさい。

日本国憲法前文には、(a) 「そもそも国政は、国民の厳粛な信託によるものであつて、その権威は国民に由来し、その権力は国民の代表者がこれを行使し、その福利は国民がこれを享受する。」という民主主義に関する一文があります。本来、国政は民意を重視した、国民の利益につながるべきものです。国民の代表である国会では、望ましい社会をつくるために (b) 法律が定められ、生活をよくするために政治が行われます。しかし、日本や (c) 世界の政治を見ると、民意を捉える難しさも見えてきています。

2025年の予算審議では、(d) 物価の高騰への対策などが、(e) 国会での論戦の中心議題になるなか、減税や (f) 社会保障制度の改革を訴える野党と、それらに応じられないとする与党や内閣との間で、意見は二分されました。また、(g) 外国人政策についても、議論になりました。

(h) 民主主義は、民意に基づく必要があります。国民一人ひとりが直接政治に参加し、意思を示す機会があることも、民意を表すうえで重要です。

問1 下線部 (a) について。この文は、ある人物が演説の中で述べた「人民の、人民による、人民のための政治」ということばの影響を受けているものだと考えられています。この演説を行った人物はだれか、答えなさい。

問2 下線部 (b) について。以下は、ある法律の条文を一部抜き出したものです。

にあてはまることばを答えなさい。なお、 には同じことばが入ります。

基本法（1999年公布・施行）

少子高齢化の進展、国内経済活動の成熟化等、我が国の社会経済情勢の急速な変化に対応していく上で、男女が、互いにその人権を尊重しつつ責任も分かち合い、性別にかかわらず、その個性と能力を十分に発揮することができる の実現は、緊要な課題となっている。

問3 下線部(c)について。2025年の国外のできごとについて述べた文として正しいものを次のア～エから1つ選び、記号で答えなさい。

- ア. 教皇選挙によって、アメリカ出身の人物が新たなローマ教皇に選ばれた。
- イ. 韓国の大統領選挙で、尹錫悦氏が当選し、政権交代がなされた。
- ウ. イギリスやアメリカによって、イラクの核関連施設が攻撃された。
- エ. カナダで開かれたG8サミットでは、ロシアの反対で首脳宣言が出せなかった。

問4 下線部(d)について。一般的に、国内での米の価格が下がるしくみについて説明したXとYの文が正しいか、誤っているかを判断し、その組み合わせとして適切なものを次のア～エから1つ選び、記号で答えなさい。

- X. 輸入制限を撤廃することで、外国産米が大量に輸入された場合。
- Y. 海外での和食の広まりにより、和食に合う日本産の米が求められた場合。

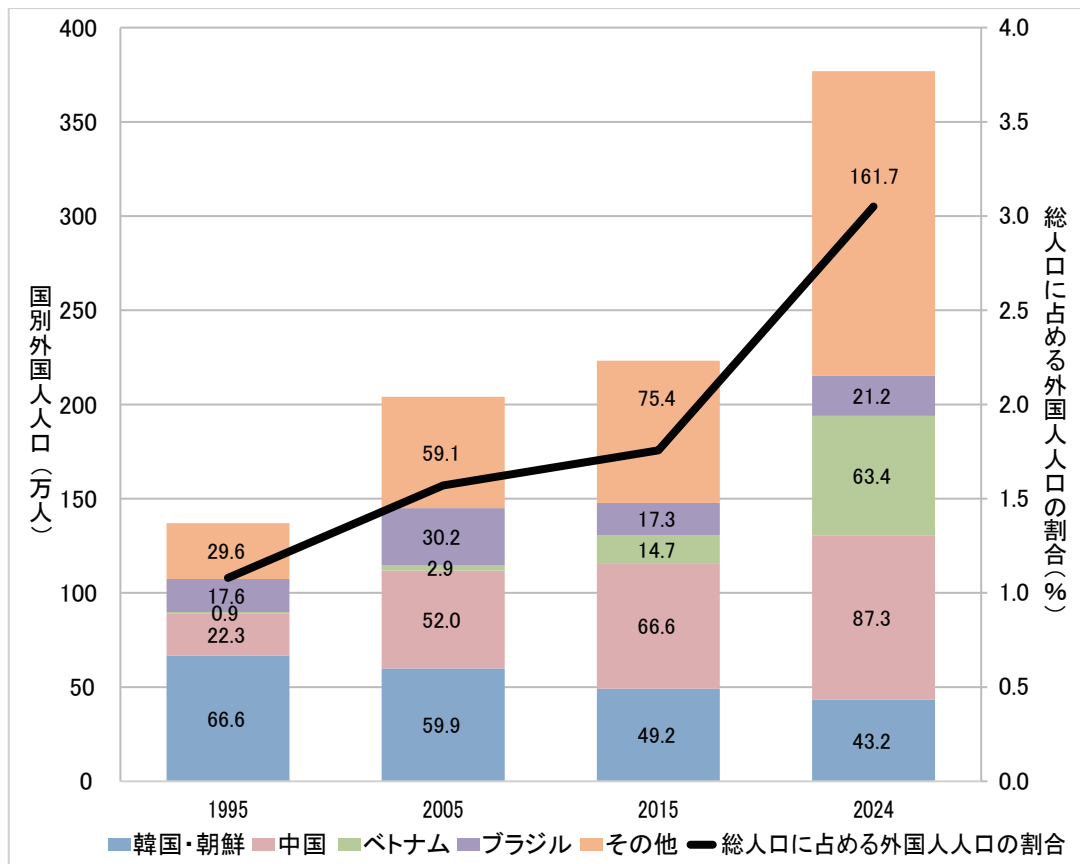
- ア. X=正しい Y=正しい
- イ. X=正しい Y=誤っている
- ウ. X=誤っている Y=正しい
- エ. X=誤っている Y=誤っている

問5 下線部(e)について。特別国会は何のために開かれる会か、説明しなさい。その際、いつ召集しなければならないか、日数についても触れること。

問6 下線部(f)について。社会保障制度の1つに雇用保険があります。雇用保険とは、どのような人に対する、どのような制度か、説明しなさい。

問7 下線部 (g) について。【資料1】は、日本における国別外国人人口および総人口に占める外国人人口の割合の推移を示したものです。

【資料1】



(「平成27年版厚生労働白書」「在留外国人統計表」「国勢調査」をもとに作成)

【資料1】から読み取れることについて述べたA～Cのうち、正しいものを選んで組み合わせを次のア～カから1つ選び、記号で答えなさい。

- A. 国別に見てみると、「韓国・朝鮮」を除けば、どの国の外国人の人口も、増加し続けている。
- B. 2015年と2024年を比較すると、国別外国人人口の合計が2倍以上に増えたことで、総人口に占める外国人人口の割合も2倍以上に増えた。
- C. 2024年の国別外国人人口を見てみると、アジアの人口が少なくとも半分以上を占めている。

- ア. Aのみ
- イ. Bのみ
- ウ. Cのみ
- エ. AとB
- オ. AとC
- カ. BとC

問8 下線部（h）について。民意を表す方法の1つに、国民投票があります。国民投票には良いところもありますが、課題もあります。

例えば、イギリスでは、2016年にEU（ヨーロッパ連合）からの離脱^{りだつ}をするかについて、国民投票を行いました。【資料2】は、国民投票の結果です。この結果を受けて、イギリスはEUからの離脱を決定し、4年後の2020年に実際に離脱しました。

【資料2】国民投票の結果（2016年6月23日）

EUからの離脱に賛成	EUの残留に賛成
51.9%	48.1%

（『日本経済新聞』2016年6月25日をもとに作成）

【資料3】は、国民投票実施後からEUを離脱するまでの期間に、イギリスの世論調査で確認された、「離脱が正しいと思う人」、「離脱が誤りだと思う人」、「離脱が正しいか誤りか、わからないと思う人」のそれぞれの割合の推移を示したものです。

【資料3】世論調査の結果の推移

	2017年6月	2018年6月	2019年6月	2020年6月
離脱が正しいと思う人の割合	44%	44%	41%	40%
離脱が誤りだと思う人の割合	45%	45%	47%	47%
離脱が正しいか誤りか、わからないと思う人の割合	11%	11%	12%	13%

（『You Gov/The Times Survey Results』をもとに作成）

民意を表す方法としての国民投票の課題を、【資料3】と比較して【資料2】から読み取ったことに触れて、1つ答えなさい。

鷗友学園女子中学校 2026年度 第二回入学試験【社会】解答用紙

1.

問1 (1)

(2)

問2 (1)

(2)

A ・ B

(3)

問3

問4

問5

2.

問1 (1)

(2)

問2 (1)

(2)

ア：8世紀初め イ：10世紀初め

問3 (1)

(2) できごと

日記・記録

問4

問5

問6 事件名

説明

問7

問8 (1)


(2)

X ・ Y

問題3の解答らんは裏面にあります



262330



↑ここにシールを貼ってください↑

受験番号

氏名



3.

問1

問2

問3

問4

問5

問6

問7

問8

